

**PÁGINA 164**

2 ¿De qué se ocupa cada médico? Explica.

El oftalmólogo ▶ Se ocupa de los problemas  
y enfermedades de los ojos.

El otorrinolaringólogo ▶ Cura los oídos, la nariz  
y la garganta.

164 Competencia lectora

**PÁGINA 165**

1 ¿Qué hace cada uno? Observa y completa.



Sofía

Sofía come.



Lucas

Lucas bebe.



Jaime

Jaime nada.



Victoria

Victoria corre.

↔ En la edición en cuadrícula:  
Valle corre.

2 ¿Qué haces tú en el colegio? Escribe. R. L.

Dibujos

Iniciación gramatical 165

**PÁGINA 166**

📖 **Escribo una receta**

1 Observa y completa.

Primero, se trituran las patatas  
cocidas. Luego, se añaden una lata  
de atún y dos cucharadas de aceite  
de oliva. A continuación, se  
remueven todos los ingredientes.  
Por último, se adorna la mezcla  
con hojas de perejil.

## PÁGINA 167

2 ¿Qué hace cada animal? Elige y completa.

maúlla      cacarea      aúlla      rebuzna

 La gallina cacarea.

 El lobo aúlla.

 El gato maúlla.



 El burro rebuzna.

## SOLUCIONES MATEMÁTICAS

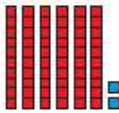
## PÁGINA 118

### Los números del 60 al 79

1 Aprende. Observa y completa.

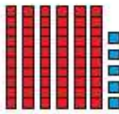
 6 decenas = 60 unidades 

60 ▶ sesenta

 ▶ 



D	U
6	2

 $60 + 2 = 62$   
sesenta y dos


 ▶ 

D	U
6	5

 $60 + 5 = 65$   
sesenta y cinco


 7 decenas = 70 unidades 

70 ▶ setenta

 ▶ 

D	U
7	3

 $70 + 3 = 73$   
setenta y tres

 ▶ 

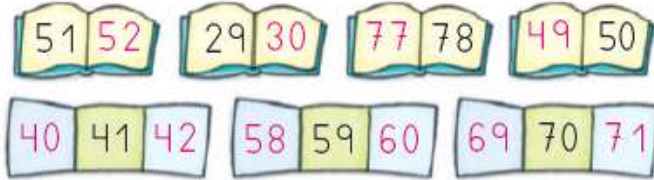
D	U
7	6

 $70 + 6 = 76$   
setenta y seis

2 Completa las series.

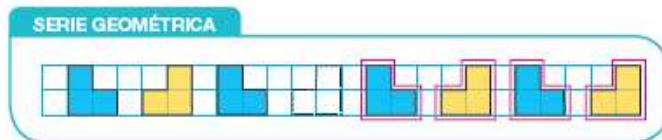


3 Escribe los números anterior y posterior.



4 ¿Cuántas decenas y unidades tienen? Completa y escribe cómo se lee cada número.

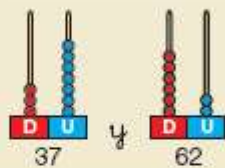
43 ▶ 4 D y 3 U ▶ cuarenta y tres  
 69 ▶ 6 D y 9 U ▶ sesenta y nueve  
 74 ▶ 7 D y 4 U ▶ setenta y cuatro



**Comparación de números de dos cifras**

1 Aprende. ¿Qué número es mayor? ¿Y menor?  
 Observa y completa.

Compara 37 y 62.

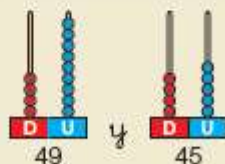


D	U
3	7
6	2



3 es menor que 6      6 es mayor que 3  
 37 es menor que 62      62 es mayor que 37

Compara 49 y 45.



D	U
4	9
4	5



9 es mayor que 5      5 es menor que 9  
 49 es mayor que 45      45 es menor que 49

2 Escribe los números en el cuadro, compara y completa.

<p>33 y 29</p> <table border="1"> <tr><th>D</th><th>U</th></tr> <tr><td>3</td><td>3</td></tr> <tr><td>2</td><td>9</td></tr> </table> <p>el número mayor ▶ 33</p>	D	U	3	3	2	9	<p>72 y 46</p> <table border="1"> <tr><th>D</th><th>U</th></tr> <tr><td>7</td><td>2</td></tr> <tr><td>4</td><td>6</td></tr> </table> <p>el número menor ▶ 46</p>	D	U	7	2	4	6
D	U												
3	3												
2	9												
D	U												
7	2												
4	6												
<p>64 y 67</p> <table border="1"> <tr><th>D</th><th>U</th></tr> <tr><td>6</td><td>4</td></tr> <tr><td>6</td><td>7</td></tr> </table> <p>el número mayor ▶ 67</p>	D	U	6	4	6	7	<p>51 y 58</p> <table border="1"> <tr><th>D</th><th>U</th></tr> <tr><td>5</td><td>1</td></tr> <tr><td>5</td><td>8</td></tr> </table> <p>el número menor ▶ 51</p>	D	U	5	1	5	8
D	U												
6	4												
6	7												
D	U												
5	1												
5	8												

3 Completa. Después, compara y escribe mayor o menor.

38 ▶ 3 D y 8 U	75 ▶ 7 D y 5 U
61 ▶ 6 D y 1 U	73 ▶ 7 D y 3 U
38 es menor que 61	75 es mayor que 73
61 es mayor que 38	73 es menor que 75

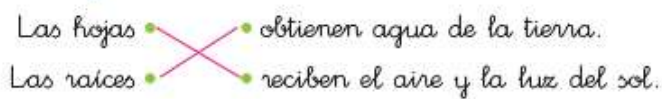
**SOLUCIONES NATURALES**

**La vida de las plantas**

1 ¿Qué necesitan las plantas para vivir? Observa y escribe.

Las plantas necesitan luz, aire, agua y tierra.

2 Piensa y une.



3 ¿Cómo es la vida de una planta? Escribe 1, 2, 3 y 4.



## PÁGINA 50

1 Escribe donde corresponda.

hierba

arbusto

árbol

Tallo duro ▶ arbustos y árbol

Tallo blando ▶ hierba

50

## PÁGINA 51

2 Colorea el tallo del árbol.

Después, completa.

El tallo de los árboles

se llama troncos.



5

3 Escribe el nombre de estas plantas donde corresponda.

amapola



nogal

jara



rosal

trébol



palmera

Árboles

nogal y palmera

Arbustos

jara y rosal

Hierbas

amapola y trébol

Inteligencia lingüística

4 ¿En qué época del año no tienen hojas algunos árboles? Marca.

En verano.

En invierno.



## SOLUCIONES SOCIALES

## PÁGINA 58

1 ¿Qué transportan estos vehículos? Observa y une.

