

**LENGUA**

Página 149

- 3 Escucha con atención y escribe el número que corresponde a cada anuncio publicitario.



lóg

Página 152

- 1 ¿Por qué hacía esto el cartero? Explica.

Porque le daban miedo los  
ladridos que se escuchaban.



- 2 Observa y escribe qué hizo el niño a continuación.



Saltó la verja para recoger  
su pelota.

- ¿Qué encontró el niño en el jardín?

Encontró un perro salchicha.

- 3 ¿Qué sonidos reproducía la grabadora al principio? ¿Y después?

Al principio reproducía ladridos, mezcla de  
rugidos de león y tos bronca de lobo.

Después reproducía los ladridos del perro  
salchicha mezclados con la risa de un niño.

- 4 ¿Crees que el dueño del perro volverá a poner la grabación del terrorífico ladrido alguna vez? ¿Por qué? Escribe tu opinión. R. L.

\_\_\_\_\_

\_\_\_\_\_

- 5 VOCABULARIO. Escribe nombres de profesiones terminados en **ero** o **era**.

carta ► cartero

jardín ► jardinera

reloj ► relojera

cocina ► cocinero

1 Relaciona y escribe oraciones.

Yo ■ ~~llegamos antes que Juan.~~  
 Nosotras ■ ~~está esperando a sus primos.~~  
 Él ■ ~~estoy preparada para la excursión.~~

Yo estoy preparada para la excursión.  
 Nosotras llegamos antes que Juan.  
 Él está esperando a sus primos.

2 Rodea y copia el pronombre personal que aparece en cada oración.

Ellas son las hermanas de Jaime. ▶ Ellas  
 Iremos al cine con vosotras. ▶ vosotras  
 Coloca tú los libros en la estantería. ▶ tú



**MATEMÁTICAS**

1 Calcula.

$4 \times 6 = 24$     $3 \times 9 = 27$     $5 \times 7 = 35$     $6 \times 6 = 36$   
 $5 \times 3 = 15$     $6 \times 7 = 42$     $2 \times 8 = 16$     $4 \times 5 = 20$

$\begin{array}{r} 74 \\ \times 2 \\ \hline 148 \end{array}$     $\begin{array}{r} 83 \\ \times 3 \\ \hline 249 \end{array}$     $\begin{array}{r} 62 \\ \times 4 \\ \hline 248 \end{array}$     $\begin{array}{r} 90 \\ \times 5 \\ \hline 450 \end{array}$     $\begin{array}{r} 51 \\ \times 6 \\ \hline 306 \end{array}$

LOS DÍAS DE LA SEMANA Y LOS MESES



2 Contesta.

- ¿Cuántos días tiene una semana? 7
- ¿Cuáles son los días de la semana? lunes, martes, miércoles, jueves, viernes, sábado y domingo.
- ¿Cuántos meses tiene un año? 12
- ¿Cuál es el primer mes del año? Enero ¿Y el último? Diciembre

3 RAZONAMIENTO. Fijate en qué día es hoy y completa.




- Mañana será lunes, día 19 de mayo.
- Ayer fue sábado, 17 de mayo.
- El próximo domingo será 25 de mayo.
- El domingo anterior fue 11 de mayo.

La tabla del 7

Luis ha hecho 5 castillos con 7 cartas cada uno.  
¿Cuántas cartas hay en total?

$7 + 7 + 7 + 7 + 7 = 35$   
 $7 \times 5 = 35$

En total hay 35 cartas.



1 ¿Cuántas estrellas hay de cada color? Calcula.

$7 \times 3 = 21$        $7 \times 4 = 28$




2 Consulta la tabla del 7 y completa.

$7 \times 5 = 35$     $7 \times 1 = 7$     $7 \times 3 = 21$     $7 \times 7 = 49$   
 $7 \times 2 = 14$     $7 \times 8 = 56$     $7 \times 6 = 42$     $7 \times 9 = 63$

3 Observa y calcula.


¿Cuántos dados hay en 7 bolsas?

$7 \times 4 = 28$  ▶ Hay 28 dados.



¿Cuántas fichas hay en 6 estuches?

$7 \times 6 = 42$  ▶ Hay 42 fichas.




4 Observa y calcula.

¿Cuánto cuestan las caretas de una caja?

$6 \times 4 = 24$  ▶ 24 euros.

¿Cuánto cuestan las marionetas de una caja?

$9 \times 7 = 63$  ▶ 63 euros.



5 Lee y resuelve.

En la habitación de Antonio hay 8 estanterías con 7 libros en cada una.  
¿Cuántos libros hay en la habitación?

Datos: 8 y 7      Operación:  $7 \times 8 = 56$

Solución: Hay 56 libros en la habitación.



Los animales de un zoo comen en total 51 kilos de carne cada día.  
¿Cuántos kilos comen en una semana?

Datos: 51 y 7

Operación:  $51 \times 7 = 357$

Solución: Comen 357 kg.



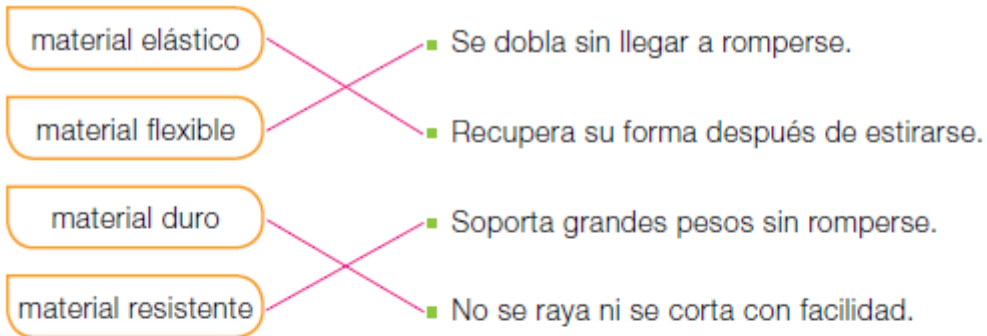
DICTADO DE NÚMEROS Sugerencia: números hasta el 999.

836   471   906   799   528   950   101   890

## NATURALES

### Página 81

#### 2 Lee y une.



#### 3 Piensa y completa.



blando



frágil



rígido

Un material que no es **duro** es blando.

Un material que no es **flexible** es rígido.

Un material que no es **resistente** es frágil.

#### 4 ¿Qué propiedades tiene la lana? Marca.



Es transparente.

Es elástica.

Es frágil.

Es dura.

Es flexible.

Es blanda.

**Página 81**

2 Escribe el nombre de cada roca donde corresponda.



basalto



caliza



granito



yeso



arenisca

Rocas duras

basaltos y granitos

Rocas blandas

caliza, yeso y arenisca


3 ¿Para qué se utilizan las rocas? ¿Y los minerales? Escribe.

Las rocas se usan para construir edificios,  
hacer esculturas, fabricar porcelana...

Los minerales se usan para obtener fierros o  
vidrios, para fabricar joyas...

4 Observa y completa la ficha de este mineral.

**ESMERALDA**



- ¿Qué color tiene? Verde
- ¿Es un mineral brillante? Si.
- ¿Es un mineral duro o blando? Duro.
- ¿Para qué crees que se utiliza? Para hacer joyas.

Inte no