


**LENGUA**

**Página 154**

**1** Lee y copia las palabras con **br** y **bl**. Luego añade tú otras palabras. **R. M.**

<b>EL NOTICIERO</b>	30 de abril
<b>Nada que temer</b>	
Pablo Ortiz	
Ayer se descubrió un curioso hecho. El terrible perro que asustaba a todo el vecindario solo es un agradable y cariñoso perrillo. Todo ha sido una broma de su dueño.	

Con **br** abril, descubrió, broma, celna

Con **bl** Pablo, terrible, agradable, cable

**2** Completa con **br** o **bl**.

Cele**br**ación de cumpleaños  
 Ga**br**riela empezó a a**br**ir sus regalos:  
 un impermea**bl**e, una **br**újula, una  
**bl**usa y un bonito li**br**o so**br**e  
 cel**br**as. ¡Unos regalos formida**bl**es!





**Página 155**

**3** Completa con palabras que tengan **br** o **bl** y copia.

Sabrina pinta el  con la .

Sabrina pinta el mueble con la brocha.

La  tiene tres preciosos .

La cabra tiene tres preciosos cabritillos.

Albilla es un  de casas .

Albilla es un pueblo de casas blancas.

Bruno cogió su  y su .

Bruno cogió su abrigo y su sombrero.

## MEJORO MI ORTOGRAFÍA

5 Escribe el conjuro cambiando **br** por **bl**.

Abracadabra,  
pata de cabra...



Ablacadabra,  
pata de cabla...



### Página 158

1 Contesta.

- ¿Dónde se venden los periódicos que se publican en papel?

En quioscos y tiendas.

- ¿En qué aparatos se puede leer la prensa digital?

En un ordenador, una tableta o un móvil.

### Página 159

1 Sustituye las palabras destacadas por pronombres personales y copia.

Ellas

Él

Ellos

Ella

Mis amigos pasarán a buscarme.

Ellos pasarán a buscarme.

Carlos juega al baloncesto.

Él juega al baloncesto.



Tus primas vendrán más tarde.

Ellas vendrán más tarde.

Elena bucea muy bien.


Ella bucea muy bien.



2 Completa la regla. Después, escribe una palabra en cada caso.

Se escribe l delante de r y de l.

**1 Observa el calendario y escribe.**



Abril, junio, septiembre y noviembre.



Enero, marzo, mayo, julio, agosto, octubre y diciembre.



**2 Completa el día y rodéalo en el calendario. Después, escribe qué día de la semana es.**

- Hoy ▶ de \_\_\_\_\_ de \_\_\_\_\_ R.L.
- Tu cumpleaños ▶ de \_\_\_\_\_ de \_\_\_\_\_ R.L.
- 12 de enero ▶ Martes      • 4 de septiembre ▶ Domingo
- 23 de junio ▶ Jueves      • 30 de diciembre ▶ Viernes

**3 Lee, consulta el calendario y completa.**

Ricardo se fue de vacaciones el segundo martes de agosto y volvió el último sábado de ese mes.

- Se fue el día ▶ 9 de agosto.
- Volvió el día ▶ 27 de agosto.
- Estuvo de vacaciones ▶ 18 días.



**4 Lee, mira el calendario y resuelve.**



El cumpleaños de Carmen es dentro de 2 semanas y el de Andrés es dentro de 2 meses.

• ¿Cuántos días faltan para el cumpleaños de Carmen?

$7 \times 2 = 14$  ▶ Faltan 14 días

- ¿Qué día es el cumpleaños de Carmen? El 2 de mayo.
- ¿Qué día es el cumpleaños de Andrés? El 18 de junio.



Pilar ha hecho 6 tartas y ha puesto en cada una 8 gominolas.  
¿Cuántas gominolas ha puesto en total?



$$8 + 8 + 8 + 8 + 8 + 8 = 48$$

$$8 \times 6 = 48$$

Ha puesto 48 gominolas.

1 Consulta la tabla del 8 y completa.

$8 \times 1 = 8$      $8 \times 4 = 32$      $8 \times 3 = 24$      $8 \times 7 = 56$

$8 \times 0 = 0$      $8 \times 8 = 64$      $8 \times 6 = 48$      $8 \times 9 = 72$

2 Observa y calcula cuántos céntimos son.



$8 \times 2 = 16$

Son 16 céntimos.



$8 \times 5 = 40$

Son 40 céntimos.

3 ¿Cuántos rombos hay en total? Calcula.



$8 \times 3 = 24$

Filas...

Columnas...



**2** Piensa y rodea en cada caso el objeto que pesa más.

**Inteligencia  
lógico-matemática**



**3** Observa y contesta.



■ ¿Qué bote ocupa un mayor volumen? ¿Por qué?

El bote de la tapadera roja  
porque es más grande.

■ ¿En qué bote cabría más azúcar? ¿Por qué?

En el bote de la tapadera roja  
porque ocupa más volumen.

**4** Piensa y rodea los objetos que flotan sobre el agua.



**2** ¿Cuáles son los puntos cardinales? Escribe.



N ▶ norte      S ▶ sur  
E ▶ este      O ▶ oeste

**3** Explica el recorrido del Sol en el cielo a lo largo de un día.



Sale por el este, al mediodía  
está en lo alto del cielo y se  
oculta por el oeste.

**4** Observa y contesta.

■ ¿Qué puede ver la niña delante de ella?

los animales

■ ¿Qué punto cardinal está a su derecha?

el este



■ ¿En qué dirección debe desplazarse la niña para ir a la casa?

Hacia el norte.     Hacia el este.     Hacia el oeste.

■ ¿Qué dirección debe tomar para ir a la fuente?

Norte.     Sur.     Este.     Oeste.