

## COMPRENDER UNA NOTICIA 2

Nombre:

Fecha:

1. Lee esta noticia. Después, elige y escribe el titular que consideres más adecuado. Ten en cuenta que debe destacar la información que consideres más importante.

### Nueva temporada deportiva en Villacolor

El lunes 5 de marzo se abrió el plazo de solicitudes en la Escuela Deportiva de Villacolor. Este año los habitantes del municipio podrán inscribirse en nuevos deportes

añadidos a la oferta habitual, como la natación, el pádel o el kárate. Este último se impartirá en el pabellón Coloma, recientemente inaugurado.

Elige el titular más adecuado:

- Llega el pádel a Villacolor.
- Nueva temporada deportiva en Villacolor.
- Inauguración del pabellón Coloma.

3. ¿Qué ilustración refleja lo que cuenta esta noticia? Lee y marca.

#### Niño rescatado en Guriana

Darío P.G., un niño de la localidad de Guriana, fue rescatado ayer por la noche de caer de un árbol. Rodrigo G.B., un bombero retirado de sesenta y seis años, paseaba de noche por la calle Lumbre cuando, de repente, divisó a un niño subido en la rama de un árbol, maullando como un gato y muy asustado. Al parecer, el pequeño era sonámbulo y había salido de su casa dormido sin darse cuenta. Por fortuna, Rodrigo pudo subir al árbol y rescatar a Darío sin que nadie sufriera ningún daño.



## LEER Y ESCRIBIR ANUNCIOS 1

Nombre:

Fecha:

1. ¿De qué tratan estos anuncios? Lee y escribe un título en cada caso. Debes empezar con una de estas palabras:

Busco...

Vendo ...

Encontrado ...

Compro ...

| <b>Compro coche</b>   | <b>Vendo canoa de dos plazas</b>  |
|---|---|
| <p>Lo necesito para llevar a mis hijos al colegio, de cuatro plazas. Si tu coche es pequeño y lo quieres vender, llámame. Me llamo Laura. 988 776 543</p>           | <p>Es de dos plazas, de color verde oscuro. La canoa tiene cuatro remos y dos chalecos. Precio a convenir. Pregunta por Sonia: 987 555 342</p>  |
| <b>Busco perro perdido</b>  | <b>Encontrado gato gris claro</b>   |
| <p>Se llama Tobi. Es pequeño y tiene el pelo largo, blanco y rizado. Cuando lo llamas, levanta una pata y ladra. ¡Llámame en cuanto lo veas! Luis - 987 654 321</p> | <p>Estaba en la puerta de mi casa. Es de color gris claro y no para de maullar. Lleva una placa con forma de corazón en el collar. Si crees que es tuyo, llama al 999 333456. Pablo</p> |

1. ¿Para qué sirven los anuncios de televisión? Marca dos opciones.

Para buscar algo perdido.

Para avisar de un evento (una película, un nuevo programa...)

Para informar de que se ha encontrado algo.



Para vender productos.

## LA TABLA DEL 3



Nombre:

Fecha:

1. ¿Cuántas canicas hay? Cuenta y completa.

|  |   |
|--|---|
| <br>$3 + 3 + 3 + 3 + 3 + 3 = 18$<br>$3 \times 6 = 18$ | <br>$3 + 3 + 3 + 3 + 3 = 15$<br>$3 \times 5 = 15$ |
|--|---|

2. ¿Cuántos hay? Completa.

|  |   |
|--|---|
| <br>$3 + 3 + 3 = 9$<br>$3 \times 3 = 9$<br>Hay 3 lecheras.<br>Cada lechera tiene 3 botellas. | <br>$3 + 3 + 3 + 3 = 12$<br>$3 \times 4 = 12$<br>Hay 4 paragueros.<br>Cada paraguero tiene 3 paraguas. |
|--|---|

3. Completa:

$3 \times 7 = 21$

$3 \times 5 = 15$

$3 \times 2 = 6$

$3 \times 1 = 3$

$3 \times 9 = 27$

$3 \times 0 = 0$

$3 \times 8 = 24$

$3 \times 10 = 30$

## TABLA DEL 4

Nombre:

Fecha:

1. ¿Cuántas pelotas hay? Completa.



Hay **6** bolsas. Cada bolsa tiene **4** pelotas.

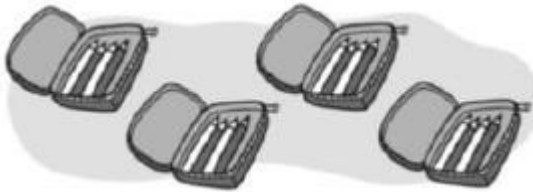
$$4 + 4 + 4 + 4 + 4 + 4 = 24$$

2. ¿Cuántas ruedas hay? Completa.



Hay **5** coches. Cada coche tiene **4** ruedas.

3. ¿Cuántos lápices hay? Completa.



Hay **4** estuches. Cada estuche tiene **4** lápices

4. Completa:

$$4 \times 3 = 12$$

$$4 \times 0 = 0$$

$$4 \times 8 = 32$$


$$4 \times 10 = 40$$

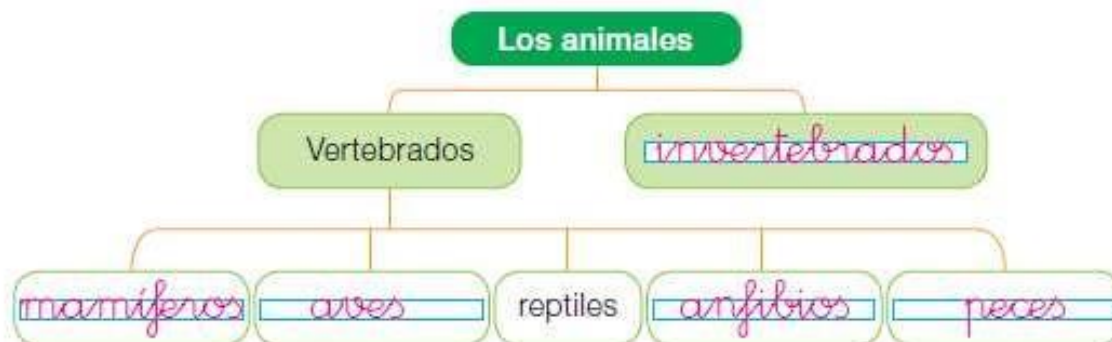
$$4 \times 7 = 28$$

$$4 \times 1 = 4$$

$$4 \times 9 = 36$$

$$4 \times 2 = 8$$

 **1 ESQUEMA.** Recuerda lo que has aprendido y completa.



**2** Escribe V (verdadero) o F (falso). Después, corrige la afirmación falsa.

- V Los animales vertebrados tienen columna vertebral.
- V Los mamíferos y los anfibios son vertebrados.
- F Los peces son animales invertebrados.
- V Los animales invertebrados no tienen huesos en su interior.



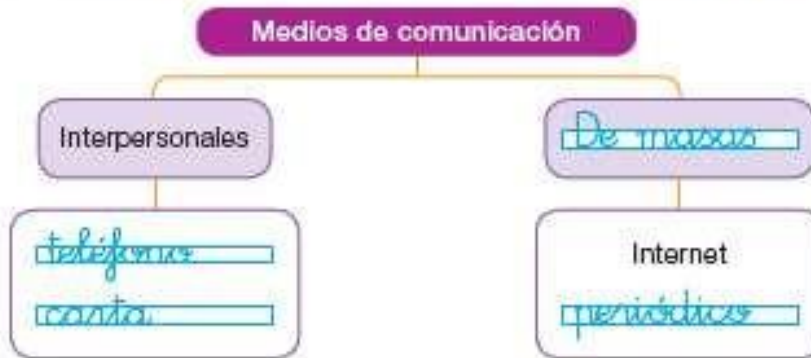
Los peces son animales vertebrados

**3** Escribe los nombres de dos animales de cada grupo. **R. L.**

## SOCIALES

Página 36

 1 ESQUEMA. Recuerda lo que has aprendido y completa. R. M.



2 Escribe el nombre de cada transporte y completa su ficha.


 ¿Para qué se utiliza?

¿Cómo se desplaza?

Por la tierra.  Por el agua.  Por el aire.

¿Qué tipo de transporte es?

Individual.  Colectivo.

 ¿Para qué se utiliza?

¿Cómo se desplaza?

Por la tierra.  Por el agua.  Por el aire.

¿Qué tipo de transporte es?

Individual.  Colectivo.