

FICHA DE SEGUIMIENTO 4º PRIMARIA JUEVES 30 DE ABRIL

LENGUA

2 Escribe el singular de estas palabras:

ustedes ▶ _____

perdices ▶ _____

huéspedes ▶ _____

tapices ▶ _____

virtudes ▶ _____

hoces ▶ _____

3 Copia estas órdenes como si se las dieras a varias personas:

Espera un poco. ▶ _____

Ven conmigo. ▶ _____

Abre la puerta. ▶ _____

Mira lo que tengo. ▶ _____



SOCIALES

3 Contesta.

- ¿Qué territorios de la Península ocupaban los iberos? _____
- ¿Cómo estaban organizados? _____
- ¿A qué se dedicaban? _____

4.- Explica cómo eran los poblados y las casas de los Iberos.

MATEMÁTICAS

5 Multiplica.

$$0,87 \times 32,009$$

$$4,025 \times 5,3$$

$$2,7 \times 34,987$$

$$4,501 \times 2,16$$

7 Calcula las siguientes multiplicaciones por la unidad seguida de ceros.

• $3,923 \times 10 =$

• $43,2 \times 1.000 =$

• $1,137 \times 1.000 =$

• $0,028 \times 100 =$

• $0,002 \times 100 =$

• $2,56 \times 1.000 =$

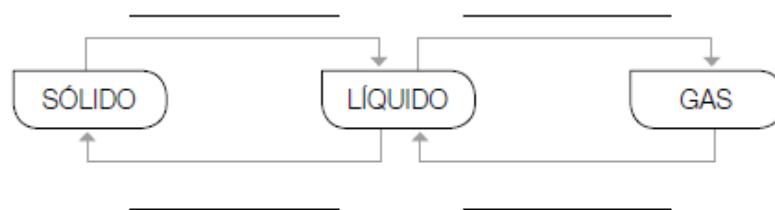
NATURALES

1 Une correctamente y escribe las oraciones que se forman.

Los sólidos...	... tienen forma fija...	... y volumen fijo.
Los líquidos...	... tienen forma variable...	... y volumen variable.
Los gases...		

- _____
- _____
- _____

2 Completa el esquema sobre los cambios de estado.



1 Write the letter. Then write about Picture D.

1 He's tall.

He's got a beard.

He hasn't got a moustache.



3 He's old.

He's got curly hair.

He hasn't got glasses.



2 She's small.

She's got bland hair.


She hasn't got a ponytail.



4 She's _____




2 Look and write.



1 Has he got straight hair? No, he hasn't.
Is he young? Yes, he is.

2 Has _____ long hair? _____
Is _____ old? _____



3 Has _____ glasses? _____
Is _____ thin? _____

4 Has _____ glasses? _____
Is _____ young? _____