

SEGUIMIENTO 2º PRIMARIA
SEMANA DEL 27 AL 30 DE ABRIL

LENGUA

1 Responde escribiendo verdadero (V) o falso (F).

- Los adjetivos son palabras que sirven para decir cómo son o cómo están las personas, los animales o las cosas.
- Los adjetivos solo pueden ir detrás de los sustantivos.
- En la oración *La casa roja es de Rocío*, la palabra *casa* es un adjetivo.
- En la oración *La maleta grande está en la habitación*, la palabra *grande* es un adjetivo.

2 Lee y rodea los adjetivos.

La bruja malvada hacía sus pociones con verdes ranas de ojos saltones y largas serpientes. La hermosa bruja buena prefería una preciosa margarita, una naranja dulce y una pizca de amor.

3 ¿Cómo es este personaje? Completa con tres adjetivos que lo describan.

Es un señor




► ¿Cómo eres tú? Descríbete con dos adjetivos.

Soy _____

4 Copia sustituyendo cada dibujo por el nombre que le corresponda.

- Ayer se rompió una  en casa y nos quedamos sin luz.

- Mi madre me ha regalado un jersey de  .

- Hoy es el  de mi amigo Lucas.

- Piensa en las palabras que corresponden a los dibujos y completa la regla.

Se escribe delante de y de

MATEMÁTICAS

1 Calcula.

$$\begin{array}{cccc} 6 \times 8 = \square & 6 \times 3 = \square & 6 \times 0 = \square & 6 \times 6 = \square \\ 6 \times 5 = \square & 6 \times 9 = \square & 6 \times 7 = \square & 6 \times 4 = \square \end{array}$$

2 Realiza las siguientes multiplicaciones.

$$\begin{array}{r} 71 \\ \times 6 \\ \hline \square \end{array}$$

$$\begin{array}{r} 90 \\ \times 6 \\ \hline \square \end{array}$$

$$\begin{array}{r} 81 \\ \times 6 \\ \hline \square \end{array}$$


$$\begin{array}{r} 51 \\ \times 6 \\ \hline \square \end{array}$$

- 3** Violeta ha comprado 30 paquetes de refrescos para una fiesta. Cada paquete contiene 6 refrescos. ¿Cuántos refrescos hay?

Datos ► y

Operación ►

Solución ►



José tiene 54 sellos y se encuentra 18 sellos más.
Después, pierde 25 sellos. ¿Cuántos sellos tiene
ahora José?

$$\begin{array}{r} \square \\ \square \\ \square \\ \hline \square \end{array} \quad \begin{array}{r} \square \\ \square \\ \square \\ \hline \square \end{array}$$



NATURALES


1. Escribe el nombre de cada material donde corresponda.

metal


cristal

plástico

caucho



2. Rodea del mismo color los objetos fabricados con el mismo material. Usa tantos colores diferentes como necesites.



3. ¿Cómo se llaman los materiales que obtenemos a partir de otros materiales? Marca.

Materiales naturales

Materiales artificiales

SOCIALES

1 Une. Después, marca la afirmación correcta.



planisferio

plano



Un planisferio muestra toda la superficie de la Tierra.

Un planisferio representa una pequeña parte de la Tierra.

2 Escribe los nombres de los océanos y continentes de la Tierra.







Océanos ►


Continentes ►

Write.

jump climb run fly swim walk hop sing



Look and write.



- 1 There's a snake. It can climb. It can't _____.
- 2 There's a fish. It can _____. It can't _____.
- 3 There's a fox. It can _____. It can't _____.