


PLAN DE TRABAJO 2º PRIMARIA
SEGUIMIENTO SEMANA DEL 16 AL 17 DE ABRIL

LENGUAJE

1. Une para formar palabras. Después, escribe donde corresponda.

cascar		romper		quitar		cortar
--------	--	--------	--	--------	--	--------

olas		nueces		césped		manchas
------	--	--------	--	--------	--	---------



2. Copia estas palabras en minúscula. Escribe mayúscula inicial cuando sea necesario.

BARCELONA
JUAN

JARDÍN
PRIMO

CIUDAD
MARISA

PIOLÍN
APARTAMENTO

3. Rodea de color rojo los posesivos y con color verde los numerales.

Mi	tres	veinte	su	nuestras	mil	primero	vuestras
sus	quinto	nuestros	tu	siete	cien	vuestros	segundo

MATEMÁTICAS

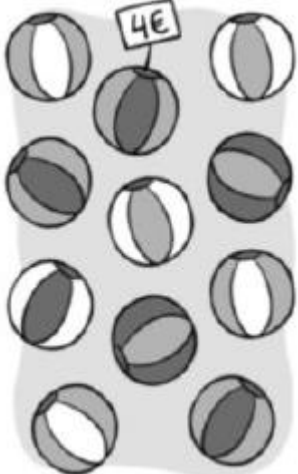
Nombre:

Fecha:

1. Observa el ejemplo resuelto y calcula:



$\begin{array}{r} \text{D U} \\ 91 \\ \times 5 \\ \hline 455 \end{array}$	$\begin{array}{r} \text{D U} \\ 73 \\ \times 2 \\ \hline \end{array}$	$\begin{array}{r} \text{D U} \\ 41 \\ \times 3 \\ \hline \end{array}$
$\begin{array}{r} \text{D U} \\ 52 \\ \times 2 \\ \hline \end{array}$	$\begin{array}{r} \text{D U} \\ 21 \\ \times 5 \\ \hline \end{array}$	$\begin{array}{r} \text{D U} \\ 72 \\ \times 3 \\ \hline \end{array}$
$\begin{array}{r} \text{D U} \\ 43 \\ \times 3 \\ \hline \end{array}$	$\begin{array}{r} \text{D U} \\ 62 \\ \times 4 \\ \hline \end{array}$	$\begin{array}{r} \text{D U} \\ 71 \\ \times 5 \\ \hline \end{array}$

2. ¿Cuánto cuestan once pelotas? Resuelve.

	<p>Precio de una pelota:</p> <p>Número de pelotas:</p> <p style="text-align: right;">x $\begin{array}{c} \square \\ \square \\ \hline \square \end{array}$</p> <p>Once pelotas cuestan Euros.</p>
---	--

NATURALES

1. Rodea los animales vertebrados.



2. Escribe V (verdadero) o F (falso) según corresponda.

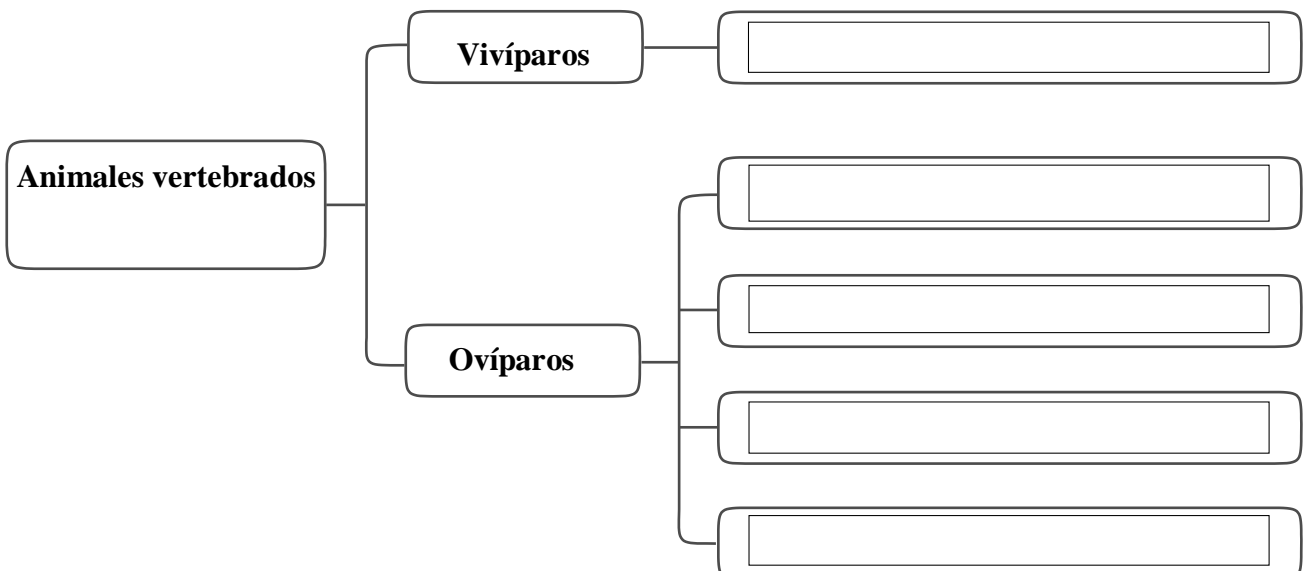
Las aves son animales ovíparos y tienen el cuerpo cubierto de plumas.

Los anfibios son animales vivíparos que tienen la piel desnuda.

Los peces y los reptiles tienen el cuerpo cubierto de escamas.

Los mamíferos son animales vivíparos y la mayoría tiene el cuerpo cubierto de pelo.

3. ¿Cómo se clasifican los animales vertebrados? Completa el esquema.



SOCIALES

1. Marca los medios de transporte colectivos.



2. Escribe donde corresponda.

carta

radio

correo electrónico

periódico

televisión

Medios de comunicación interpersonales	
Medios de comunicación de masas	

3. Completa:

acera

calzada

paso de peatones

semáforo

- Los peatones deben caminar siempre por la
- Los vehículos circulan por la
- Debemos cruzar la calzada por el
y cuando el esté en verde.



INGLÉS

1.ver vídeos (con subtítulos en inglés si se puede)

<https://www.youtube.com/watch?v=WkswguWRJ5Q>

<https://www.youtube.com/watch?v=5su1M6NdG-l>

➡ Circle. ➡ Write.



➡ Write.

cold hot thirsty cold ~~hungry~~ hot
happy hot sad angry cold tired



I'm cold.

I'm hungry.



I'm _____.

I'm _____.



I'm _____.

I'm _____.



I'm _____.

I'm _____.



I'm _____.

I'm _____.



I'm _____.

I'm _____.