

SEGUIMIENTO 2º PRIMARIA
SEMANA DEL 11 AL 15 DE MAYO

LENGUA

1 ¿Qué son los pronombres personales? Marca y copia la definición correcta.

- Son palabras que sirven para nombrar personas, animales o cosas.
- Son palabras con las que nombramos a las personas o a los animales sin decir su nombre.
- Son palabras que sirven para decir cómo son las personas, los animales o las cosas.

3 Inventa dos oraciones en las que utilices pronombres personales.

2 Copia sustituyendo las palabras destacadas por un pronombre personal.

- **Mi tío** comía galletas todo el día.

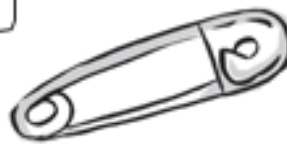
- **Martina y Elisa** jugaban a la comba en el patio.

- **Carlos, Laura y yo** hicimos un castillo de arena.

Lee las definiciones y pon el número que corresponda a cada dibujo. Después, escribe sus nombres.

1. Prenda de vestir que sirve para cubrirse la cabeza y protegerse del sol.
2. Mujer que tiene poderes mágicos y suele ir volando en su escoba.
3. Cicatriz redonda que todos tenemos en medio de la barriga.
4. Color que tienen la nieve y la leche de vaca.
5. Parte del cuerpo que va desde el hombro hasta la mano.
6. Alfiler que se abrocha para que no pueda perderse fácilmente.













MATEMÁTICAS

Escribe los meses del año y relaciona.

Enero

Febrero

Tiene 30 días

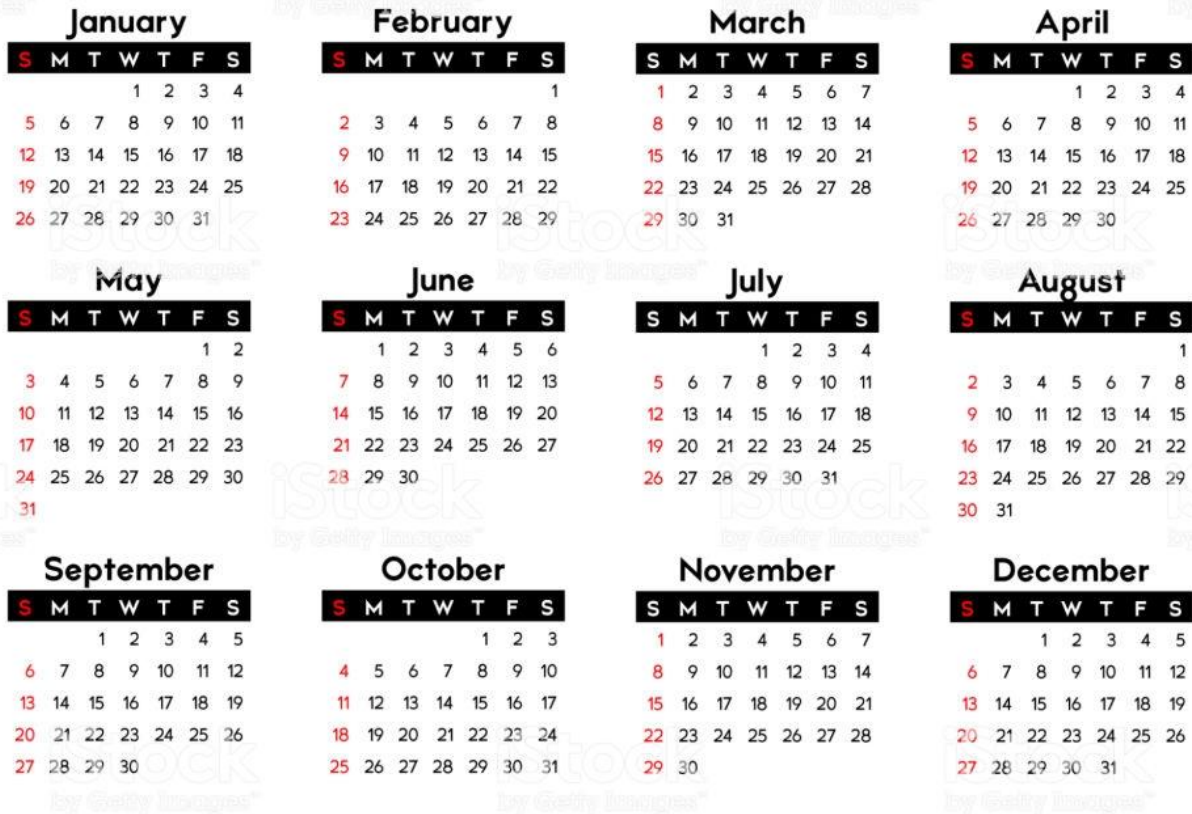
Tiene 31 días

Tiene 28
o 29 días

Julio

Mira el calendario y contesta:

2020



- El cumpleaños de Maite es el 21 de abril.
- El cumpleaños de César es 4 días antes que el de Maite, y el de Silvia es 10 días después.
- El cumpleaños de Marina es 1 semana antes que el de Maite, y el de Antón es 2 semanas después.



- César ►
- Silvia ►
- Marina ►
- Antón ►


$8 \times 1 =$	<input type="text"/>	$8 \times 3 =$	<input type="text"/>
$8 \times 5 =$	<input type="text"/>	$8 \times 10 =$	<input type="text"/>
$8 \times 9 =$	<input type="text"/>	$8 \times 4 =$	<input type="text"/>
$8 \times 7 =$	<input type="text"/>	$8 \times 8 =$	<input type="text"/>
$8 \times 6 =$	<input type="text"/>	$8 \times 2 =$	<input type="text"/>

NATURALES

1. ¿Qué objeto pesa más? Rodéalo y explica por qué lo sabes.

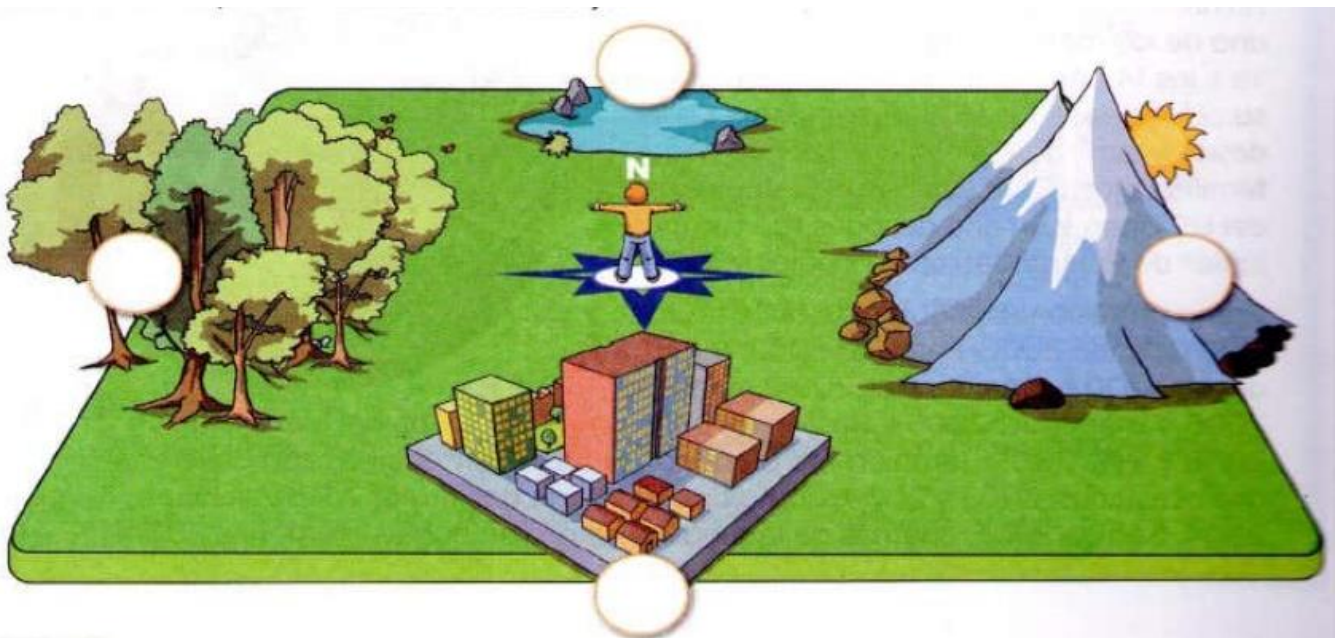


2. Dibuja en cada caso un objeto que tenga un volumen mayor.




SOCIALES

Observa la siguiente imagen. Luego, reconoce los puntos cardinales.











➔ Follow and write.

teeth wings legs tail arms head



➔ Look and write. ➔ Read and match.

- 1 It's got  wings.
It hasn't got  _____.
- 2 It's got  _____.
It hasn't got a  _____.
- 3 It's got  _____.
It hasn't got  _____.
- 4 It's got  _____.
It hasn't got  _____.

